

# RAPPEL : LE RESEAU LOCAL

De combien d'espaces informatiques dédiés dispose l'établissement ?  1-3  4-6  + de 6  
 Listez-les : **TECHNO 1 et 2, SALLE 14, CLASSE MOBILE, SALLE DES PROFS, ADMINISTRATION, CDI, TABLETTES, PETITE ETUDE**

Par quels moyens de connexion sont-ils reliés ? Précisez.

filaire  onde précision : **CONNECTEURS RJ 45 SAUF TABLETTES EN WI FI**

Sur le réseau pédagogique ci-contre du Clg Macé de SURESNES, ...

... combien de postes informatiques sont reliés au réseau ? **50 POSTES + EQUIPEMENT NOMADE**





... quels sont les moyens de communication mis en œuvre ? **LE FILAIRE ET LE WIFI**




... entourez le routeur en rouge

... n'importe qui peut-il imprimer en SDP ? Justifier.

**NON CAR UN COMMUNTEUR RESTREINT L'ACCES AUX POSTES DE LA SDP**

Par îlot, retracez le réseau local de la salle de Technologie dans laquelle vous vous trouvez.  
 Vous utiliserez les représentations ci-dessous.

Ordinateurs fixes ou portable	
Tablette	
Imprimante	
Vidéo projecteur	

Commutateur	
Câble RJ 45	
Liaison sans fil	
Borne Wifi	